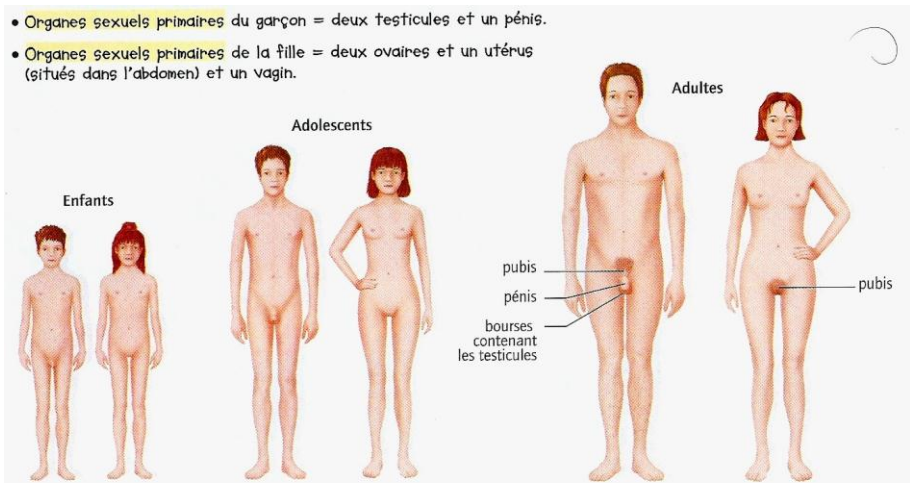


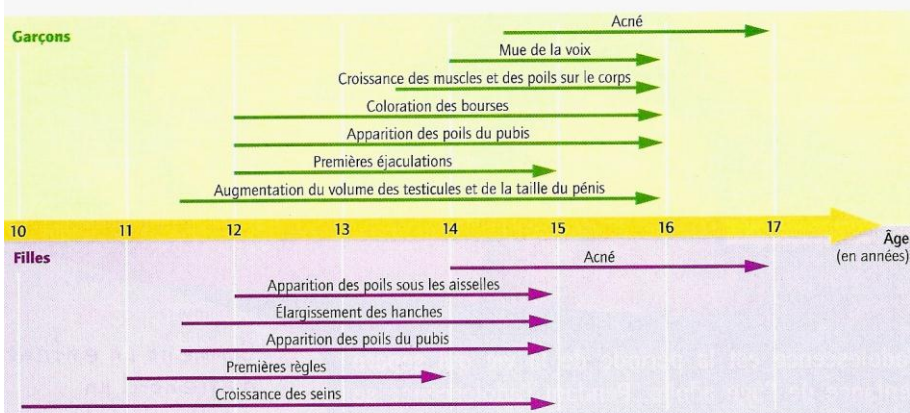
Activité 1 : J'étudie les transformations permettant à l'être humain de devenir capable de se reproduire

Consigne : A l'aide des documents et du graphique à construire, remplis le tableau ci-dessous.

- Organes sexuels primaires du garçon = deux testicules et un pénis.
- Organes sexuels primaires de la fille = deux ovaires et un utérus (situés dans l'abdomen) et un vagin.



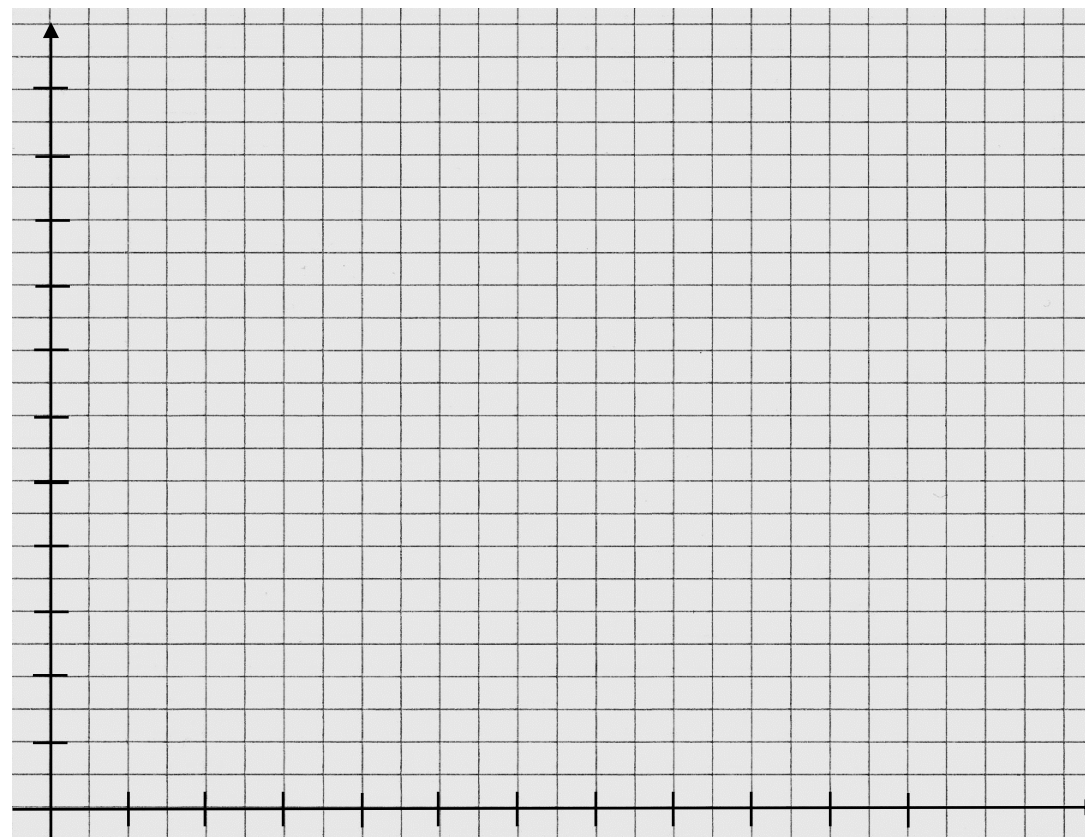
1 Les transformations progressives du corps à la puberté (du latin *pubescere*, qui signifie se couvrir de poils).



2 L'apparition des caractères sexuels secondaires à la puberté. Les âges indiqués sont des moyennes.

Age en années	4	6	8	10	12	14	16	18	20	22
Volume d'un testicule (en mL)	2	2	2	2	4	8	18	20	22	22

Titre : Tableau de l'évolution du volume des testicules en fonction de l'âge



Titre : Graphique de l'évolution du volume des testicules en fonction de l'âge

	Age du début de la puberté	Zones du corps où se développent les poils	Modifications de la forme du corps	Modifications des organes génitaux	Premier signe du fonctionnement génital
Garçon					
Fille					

Titre :